



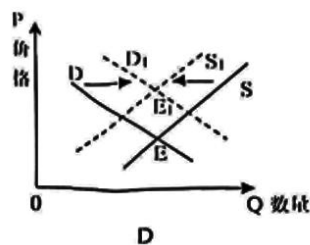
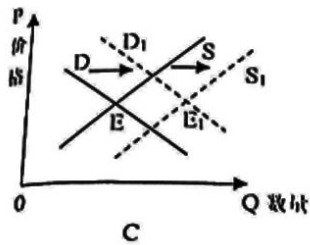
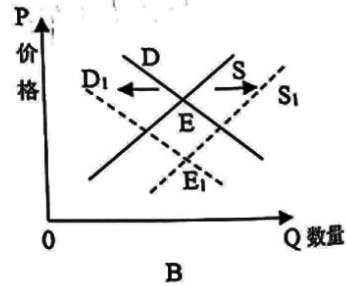
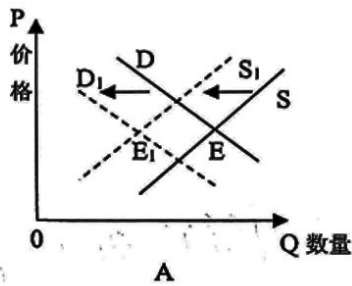
蜜蜂优课 考前八套卷（六）

政治试题

建议时间 50~55 分钟

一、选择题：本题共 15 小题，每小题 3 分，共 45 分。在每小题给出的四个选项中，只有一项是符合题目要求的。

1. 部分中药材近年来市场交易低迷，种植户种植意愿不高，种植面积整体减少。2020 年，受疫情影响，部分具有清热解毒功效的中药材畅销。上述因素对中药材市场造成的影响反映在下列图中（D、S 分别代表需求曲线和供给曲线，E 代表均衡价格），最有可能的是（ ）。



2. 需求侧管理必须坚持扩大内需这个战略基点，多措并举，释放更有力、更持久的经济动能。

下列传导路径符合这一要求的有（ ）。

- ①积极引导增加储蓄→扩大投资者收益→为经济持续发展提供新动能
 - ②增加公共物品的供给→优化生产要素配置→发挥消费的基础性作用
 - ③持续深化收入分配制度改革→提高居民的收入→增加居民内生需求
 - ④充分发挥有效投资的作用→增加高质量的供给→创造新的消费需求
- A. ①② B. ①③ C. ②④ D. ③④

3. 我国承诺二氧化碳排放力争 2030 年前达到峰值，力争 2060 年前实现碳中和，即二氧化碳的排放量通过植树造林、节能减排等形式，抵消人类自身产生的二氧化碳，实现正负抵消，达到相对“零排放”。实现上述承诺意味着

- ①工业企业的能源消费成本逐年下降
- ②消费者坚持量入为出的适度消费



③加快调整优化产业结构和能源结构

④需要加快建设碳排放权交易市场

A. ①② B. ①③ C. ②④ D. ③④

4. 2020年，全国基本医保参保人数13.6亿人，医保发出笔笔民生红利，支付新冠肺炎患者治疗费用16.3亿元。119种药品纳入医保药品目录，平均降幅超过50%。开展住院费用跨省份直接结算，医保基金支付1038.4亿元。材料表明我国（ ）。

①完善再分配调节机制，促公平惠民生

②完善卫生健康体系，保障人民健康权益

③降低医药企业利润，引导承担社会责任

④发挥商业保险的作用，减轻患者的负担

A. ①② B. ①③ C. ②④ D. ③④

5. 为应对新冠肺炎疫情等因素影响，中央和地方出台一系列政策支持外贸企业出口转内销。商务部对四千多家外贸企业的调查结果显示，截至2020年11月，超四成的外贸企业经开展了出口转内销业务。出台这一系列政策，意在（ ）。

①稳定我国外贸主体和产业链供应链

②优化企业经营结构，降低生产成本

③丰富国内市场供给，挖掘消费需求

④放宽市场准入，增加国外产品进口

A. ①③ B. ①④ C. ②③ D. ②④

6. 2020年11月2日，中国人民银行、中国银保监会、中国证监会、国家外汇管理局等主要监管部门依照相关规定，监管约谈了某集团实际控制人与相关管理层，要求该集团持续提升普惠服务能力，助力经济和民生发展。可见，我国相关部门（ ）。

①反映民意，坚持依法科学民主决策

②强化监管，引导企业履行社会责任

③依法行政，贯彻人民至上的价值观

④严格司法，遏制企业违纪违法行为

A. ①② B. ①④ C. ②③ D. ③④

7. 国民经济和社会发展第十四个五年规划和二〇三五年远景目标，为开启第二个百年奋斗目标新征程擘画新的蓝图。“十四五”规划的出台需要经过的程序应该是

①中央文件起草组广泛征求意见，党的十九届五中全会审议并通过《十四五规划的建议》

②全国人大财政经济委员会审查《十四五规划和2035年远景目标纲要草案》

③国务院起草《十四五规划和2035年远景目标纲要草案》，进一步广泛征求意见

④十三届全国人大四次会议审议并通过《十四五规划和二〇三五年远景目标纲要》

A. ①→③→②→④ B. ③→①→②→④

C. ①→②→③→④ D. ③→①→④→②

8. 3月5日，第十三届全国人民代表大会第四次会议举行首场“代表通道”采访活动，由，全国人大代表通过网络视频方式接受采访，讲述履职故事、回应记者提问。大家发现，今年“代表通道”上发言的代表全部来自基层。自2018年十三届全国人大一次会议开设“代表通道”以来，这尚属首次。基层代表站上“C位”因为



- ①基层代表来自于一线，能够代表人民行使参政议政的职能
②基层代表离百姓最近，是党和政府联系群众的桥梁和纽带
③基层代表由人民选举产生，履行职能需要接受人民的监督
④基层代表参加行使国家权力，是人民代表大会制度的基石
- A. ①② B. ①④ C. ②③ D. ②④

9. 2020年修订的《广东省宗教事务条例》增加的内容有：各级人民政府应当为宗教团体依法开展工作提供必要条件，宗教界相关人员进入景区内宗教活动场所免票，宗教教职人员依法享有社会保障权利特别是低保和特困等社会救助等。上述修订（ ）。

- ①有利于保障信教群众的特殊权益
②是规范宗教事务管理的内在要求
③有助于维护宗教和睦与社会和谐
④体现我国宗教坚持独立自主自办原则
- A. ①② B. ①④ C. ②③ D. ③④

10. 2020年12月16日，澳门特区首个青少年爱国爱澳教育基地启用。特区政府鼓励学校、青年社团和民间机构充分利用这个基地，为澳门青少年开展研学活动，共同为澳门、为祖国培育出有理想、有能力、有担当，立足澳门、心系祖国、放眼世界的年轻新一代。这说明

- ①教育在人的教化与培育上扮演着非常重要的角色
②强化爱国教育促进了澳门地区经济的繁荣与发展
③爱国教育旨在增强澳门居民国家意识和爱国精神
④爱国教育推动了中华优秀传统文化的传承和创新
- A. ①② B. ①③ C. ②④ D. ③④

11. 当传统遇上科学，独特而惊艳。九章、北斗、天问、玉兔、鲲鹏、领雁、蛟龙……透过这些名字可以感受到大国重器的中国式浪漫。中国千年的文化底蕴，在科学家们起的名字中被展现得淋漓尽致。大国重器的诗意名字（ ）。

- ①彰显了中华文化的优越性
②承载着中华民族的文化基因
③丰富和拓展了中华文化的内涵
④激发了文化共鸣和科技创新的自豪感
- A. ①③ B. ①④ C. ②③ D. ②④

12. 党的十八大以来，以习近平同志为核心的党中央始终把脱贫攻坚摆在治国理政的突出位置，立足我国国情，出台一系列政策举措，逐渐形成了中国特色反贫困理论，这是马克思主义反贫困理论中国化的最新成果，为人类反贫困事业贡献了中国方案。这表明（ ）。

- ①源于时代的哲学都是自己时代精神上的精华
②真正的哲学能反映时代任务、把握时代脉搏
③真正的哲学对时代发展具有积极的促进作用
④解决具体实践问题是真正的哲学的历史使命
- A. ①③ B. ①④ C. ②③ D. ②④



13. 在“人工智能创作的画作应不应该被看作是艺术”为主题的辩论中，正方认为“人工智能通过深度学习人类著名画作能创造出独特艺术作品”，反方则认为“人工智能因不会编程而不具备艺术创造力”。以下观点能够为反方提供支持的是（ ）。

- ①意识是人脑的机能，艺术是人类情感化的创造性活动
 - ②意识具有能动作用，人工智能能为艺术创作锦上添花
 - ③意识活动具有自觉选择性，人工智能可通过深度学习获得创作能力
 - ④意识活动具有主动创造性，人工智能的创作只是对数据的重新处理
- A. ①③ B. ①④ C. ②③ D. ②④

14. 海恩法则认为，每一起严重事故的背后，必然有 29 次轻微事故和 300 起未遂先兆以及 1 000 起事故隐患。中央经济工作会议指出，要高度重视安全生产和防灾减灾工作，坚决防范重特大事故发生。高度重视安全生产工作的依据是（ ）。

- ①微小的量变必然促成事物的质变
 - ②质变是量变的必然结果，要防微杜渐
 - ③事物的量变是渐进的，但会引起事物的质变
 - ④事物的发展表现为事物在新质基础上的量变过程
- A. ①③ B. ①④ C. ②③ D. ②④

15. 2010 年 11 月 23 日，贵州省紫云县等 9 个贫困县退出贫困县序列。至此，在习近平的精准扶贫方略指引下，经过 8 年持续奋斗，我国 832 个贫困县、近 1 亿贫困人口如期完成了现行标准全部脱贫攻坚目标任务，创造了人类减贫史上的奇迹。脱贫攻坚任务的如期完成，说明

- ①社会主义社会发展面临的矛盾已经基本解决
 - ②社会生活的本质是实践的，社会历史是实践的结果
 - ③思想领域的上层建筑的创新，对物质资料生产作用巨大
 - ④人民群众是社会实践的主体、社会变革的决定力量
- A. ①③ B. ①④ C. ②③ D. ③④

二、非选择题：共 48 分。

16. 阅读材料，回答下列小题。【提交批改时图片请放正，否则一律按 0 分处理】

基础研究是为了揭示客观事物的本质、运动规律，获得新发现、新知识、新学说而进行的研究活动，是整个科学体系的源头，是所有技术问题的总机关。

材料一：

2017-2020 年中国基础研究经费支出及其在全年研究与试验发展经费的占比：



注：2020年发达国家基础研究经费占全年研究与试验发展经费的比例一般保持在15%上下。

材料二：

近年来，我国基础研究围绕量子信息、光子与微纳电子、网络通信等重大创新领域积极布局，国家对基础研究投入年均增幅达到15%左右，建设了国家实验室等一大批基础研究设施，并在高校人才选拔中推出“强基计划”，加强基础研究人才培养。针对基础研究周期长、研究结果具有很大不确定性的特点，探索建立自由探索和颠覆性创新活动免责机制。

“十三五”以来，我国国际科技论文数量、高被引论文数量均位居世界第二位，国内发明专利授权量位居世界首位……基础研究的源头作用正日益凸显。

(1) 解读材料一反映的经济信息。(4分)

(2) 结合材料并运用经济知识，说明推动基础研究对我国建设现代科技强国的作用。(10分)

17. 阅读材料，完成下列要求。(12分)【提交批改时图片请放正，否则一律按0分处理】

近几年来，特别是2019年香港发生“修例风波”以来，反中乱港势力和本土激进分离势力公然鼓吹“港独”等主张，通过香港特别行政区选举平台、立法会和区议会议事平台或者利用有关公职人员身份，肆无忌惮进行反中乱港活动，极力瘫痪香港特别行政区立法会运作，阻挠香港特别行政区政府依法施政；策划并实施所谓“预选”，妄图通过选举掌控香港立法会主导权，进而夺取香港管治权。

为完善香港特别行政区选举制度，发展适合香港实际情况的民主制度，根据宪法以及香港基本法、香港国安法的有关规定，十三届全国人大四次会议以高票表决通过《全国人民代表大会关于完善香港特别行政区选举制度的决定》。这是继制定实施《中华人民共和国香港特别行政区维护国家安全法》后，国家完善香港特别行政区法律和政治体制的又一重大举措。结合材料分析，全国人大通过上述决定的依据及重要意义。

18. 阅读材料，回答下列小题。(12分)【提交批改时图片请放正，否则一律按0分处理】

古城，承载着历史与文化，赓续着传统和文明，讲述着一代代居民在此生产、生活的故事。在文化旅游产业火热发展的今天，古城商业开发成为一个热门话题。对于古城商业开发，有人赞成，有人反对。

赞成者

古城商业开发使城市功能更加完善,改善人居环境,丰富旅游业态,带动城市经济;同时可以深入挖掘古城的历史文化内涵,以丰富多彩的方式讲述古城故事,增强游客的体验感、参与感,在当下的生活中不断孕育出新故事。这样的古城,才能历久弥新,永葆活力和魅力。

反对者

古城的价值在于其深厚的历史文化底蕴,保留“原汁原味”才能留住居民、留住传统、留住记忆。本土特色文化被商业营销不断解构,导致商业味过浓,文化味趋淡。有的地方忽视古城的自然、历史、文化等个性化特征而盲目拆旧建新、拆真建假,也会让人觉得失真、失味。

你是赞成还是反对古城商业化开发?请运用文化生活有关知识阐明理由。(12分)

19. 阅读材料,完成下列要求。(10分)【提交批改时图片请放正,否则一律按0分处理】

在中华优秀传统文化中,牛是无私奉献、开拓进取、吃苦耐劳的象征,寄寓着人们的美好期待,“朝耕及露下,暮耕连月出”“羸羸老牯牛,跌跌数春秋”等诗句都表达了牛辛勤劳作、不求回报、无怨无悔的高尚品质,“孺子牛”“拓荒牛”“老黄牛”更沉淀为富有民族特色的底蕴深厚的文化意象(2021年新年之际,习近平总书记赋予孺子牛以“为民服务”拓荒牛以“创新发展”、老黄牛以“艰苦奋斗”的时代内涵,号召发扬“三牛”精神,永远保持不畏艰险、锐意进取的奋斗韧劲,在新的征程上开拓创新、坚毅前行。

2月17日,《感动中国2020年度人物颁奖盛典》在北京隆重举行,十位“感动中国”人物中有秉持全心全意为人民服务赤诚之心,甘于奉献的“孺子牛”张定宇、张桂梅等人;有勇于面对艰难险阻积极开拓创新,攻坚克难的“拓荒牛”谢军、叶嘉莹等人;也有埋头苦干,以凡人之躯书写传奇,以艰苦奋斗的精神鼓舞无数人的“老黄牛”毛相林、汪勇等人。他们用自己的实际行动诠释了新时代的“三牛”精神,书写了一曲荡气回肠的中华民族精神史歌,激励着每一个中华儿女坚守于风雨、逆行于危难,共同创造断的历史辉煌。

结合材料,运用“在劳动和个献中创造价值”的知识,说明感动中国2020年度人物是怎样实现自己的人生价值的。(10分)