

# 2022 届高三文科综合核心猜题卷

## 试卷


一、选择题：本题共 35 小题，每小题 4 分，共 140 分。在每小题给出的四个选项中，只有一项是符合题目要求的。

静宁县位于陇东地区黄土高原腹地，苹果产业是全县农村经济发展的第一支柱产业，形成了包括育苗在内的 50 多家相关龙头产业。下图为 2010—2016 年静宁县苹果生产区位熵变化趋势（区位熵又称为专业化率，反映该产业在某一区域的专业化发展状况，其值小于 1 表示专业化水平低，大于 1 表示产业具有竞争优势）。据此完成 1~3 题。



1. 苹果产业成为静宁县农村经济发展的支柱产业主要得益于 ( )
- A. 光热条件好      B. 无霜期长      C. 工业发达      D. 气候适宜
2. 图中显示静宁县苹果产业 ( )
- A. 数量多      B. 专业化水平高      C. 区位优势尚弱      D. 畅销海内外
3. 引起表中 2012 年以后的区位熵变化的关键因素可能是 ( )
- ① 气候变暖影响      ② 苹果产业价格下降  
③ 其他产区竞争激烈      ④ 农业劳动力转移
- A. ①②      B. ①③      C. ②③      D. ③④

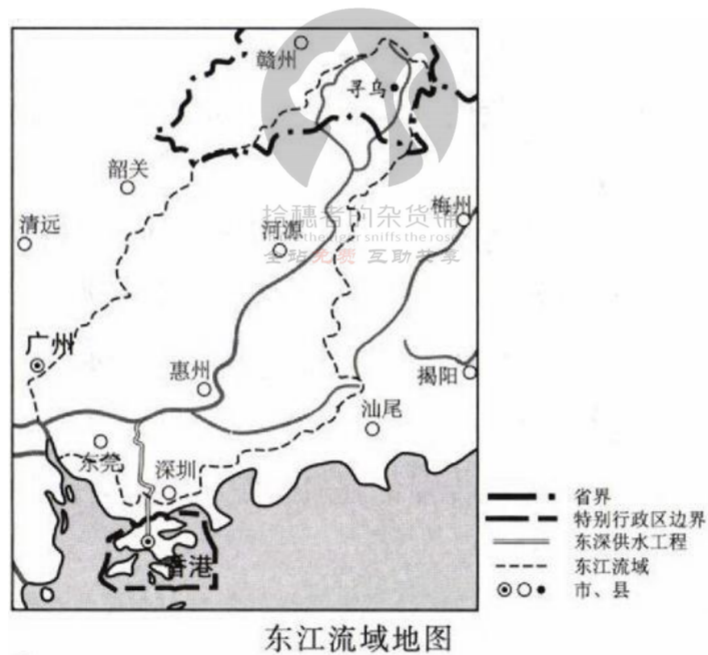
北京时间 2021 年 7 月 6 日 23 时 53 分，我国在西昌卫星发射中心用长征三号运载火箭（如图），成功将天链一号 05 星发射升空，卫星顺利进入预定轨道，发射任务获得圆满成功。据此完成 4~6 题。



4. 火箭点火发射时 ( )

- A.全球新的一天所跨经度范围大于旧的一天  
 B.伦敦正值午餐时间  
 C.洛杉矶（西八区）与北京日期相同  
 D.纽约（西五区）自由女神像的影子朝向正北
- 5.从卫星发射至国庆期间（ ）  
 A.太阳直射点一直向北移动  
 B.地球公转速度不断变慢  
 C.北极地区出现极昼  
 D.北京天安门广场升旗逐日推迟
- 6.滞留西昌卫星发射基地的游客一周内观测到日出方位及正午发射塔的影子长度分别是（ ）  
 A.东南、变短  
 B.东北、变长  
 C.东北、变短  
 D.东南、变长

东江是珠江水系干流之一,从江西省赣州市寻乌县发源,自东北向西南流入广东省境内,下游流经广东省河源、广州、东莞等地,最终汇入珠江干流并注入南海(如图)。1965年建成的东深供水工程成为供港水源,东江被称为“香港繁荣稳定之水”。据此完成7~8题。



- 7.东江被称为“香港繁荣稳定之水”的主要原因是香港（ ）  
 ①人口密度大, 经济发达  
 ②降水充沛且季节集中  
 ③储水量较少  
 ④降水充沛且季节分配均匀  
 A.①②  
 B.①③  
 C.②③  
 D.③④
- 8.东深供水工程对该流域的影响有（ ）  
 A.保障了寻乌县生态环境  
 B.加剧流域水资源分配的矛盾

C.降低香港用水的使用成本

D.利于减少香港地下水的开采

极端长历时暴雨是指降水量 $\geq 10\text{mm/h}$ 且连续小时数 $\geq 6\text{h}$ 的降雨，其形成往往受副热带高压气压后部（偏南风）、蒙古气旋、台风、华北气旋和江淮气旋等因素的影响。图1是近十年辽宁经历极端长历时暴雨的站数及次数时间分布统计图，图2是辽宁某次极端长历时暴雨的近地面等压线图，据此完成9~11题。

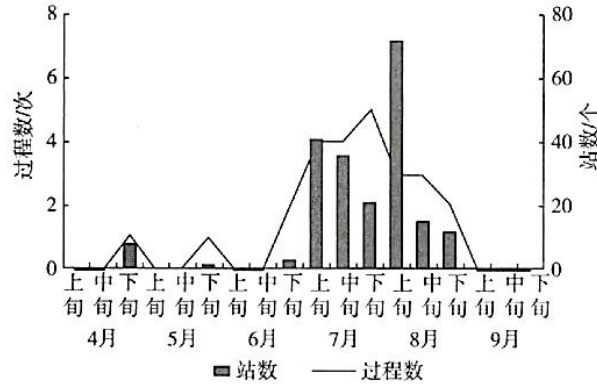


图1

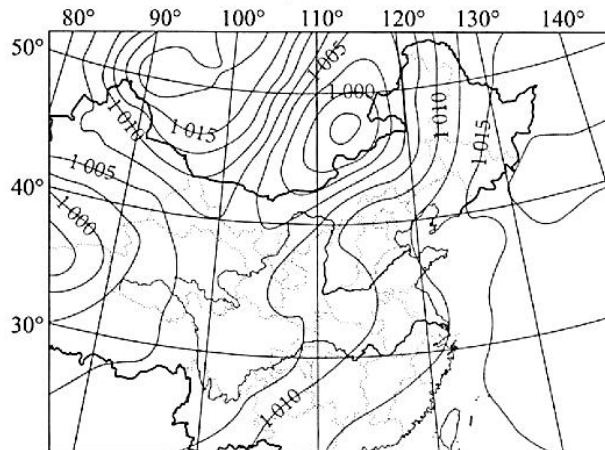


图2

9.近十年，辽宁经历极端长历时暴雨降水范围最大的时段是（ ）

- A.7月上旬      B.7月中旬      C.7月下旬      D.8月上旬

10.图2时刻，辽宁附近的近地面风向为（ ）

- A.偏东      B.偏南      C.偏西      D.偏北

11.推测形成该次极端长历时暴雨最可能的天气系统是（ ）

- A.蒙古气旋      B.江淮气旋      C.副热带高压后部      D.台风

12.2021年12月，我国自主研发的“中国芯”数字货币钱包已通过相关测试。该产品可通过指纹识别解锁，支持数字货币收付款、余额查询、交易信息显示、加载健康码等功能。只要在手机上安装数字货币钱包App，不需要网络，两个手机“碰一碰”，就能把一个人数字货币钱包里的数字人民币转给另一个人。以下对数字货币钱包认识正确的是（ ）

- 
- ①数字货币钱包是具有集存款、查询、消费一体的电子支付卡
  - ②数字货币钱包简化了收款手续，为居民生活消费提供了便利
  - ③数字货币钱包丰富了纸币职能，代替纸币执行流通手段职能
  - ④数字货币钱包加速了货币流通，推动了市场交易的顺利进行

A.①②                      B.①③                      C.②④                      D.③④

13. “网购、直播抢货、线上问诊……我的日常消费几乎一部手机就能全部搞定”，某消费者说。近期她又发现了消费“新大陆”：“没想到在家也可享受美容、护理等一对一上门服务，还没有额外费用，真是省时省力。”这启示我们要（ ）

- ①针对消费者需求升级，提供更加智能化的消费品
- ②不断提升传统消费能级，加快培育新型消费
- ③善于搭建消费升级平台，优化流通网络布局
- ④开展质量提升行动，引导新型消费快速健康发展

A.①②                      B.①④                      C.②③                      D.③④

14.2021年9月以来，“拉闸限电”成为社会关注的热点问题。一方面，受全国性煤炭紧缺、煤价高企、煤电价格倒挂影响，不少省份电力产能不足。另一方面，随着我国经济强劲复苏，用电需求迅猛增长。下列措施能够有效缓解电力供需矛盾的是（ ）

- ①依法释放煤炭先进产能，有序增加煤炭进口
- ②上调生产生活用电价格，激发电企的生产积极性
- ③调整财政政策，给经济降温，减少生产性用电需求
- ④对高能耗、高排放和低产出企业进行限煤限电限产

A.①②                      B.①④                      C.②③                      D.③④

15.2021年12月，中国智能交通龙头企业海信智能交通集成项目落地埃塞俄比亚，并将以此为契机迎来其B2B产业在全球的更大市场机会。海信项目落地埃塞俄比亚体现了其（ ）

- ①坚持走出去，更好利用全球资源和市场
- ②贯彻开放发展理念，积极培育对外开放优势
- ③制定多元化发展战略，顺应经济一体化发展潮流
- ④优化产业体系，提升我国产业价值链的国际竞争力

A.①②                      B.①③                      C.②④                      D.③④

16.2021年11月29日，教育部发布公告，就《中华人民共和国教师法（修订草案）（征求意见稿）》公开征求意见。公众可通过信函、电子邮件等方式反馈意见，意见反馈截止时间为2021

---

年12月20日。教育部此举（ ）

- ①有助于充分反映民意，体现立法的民主性
- ②有助于广泛集中民智，增强立法的科学性
- ③保障了教师通过信息公开制度参与决策的权利
- ④维护了教师和公民参与决策的基本民主权利

A.①②                      B.①③                      C.②④                      D.③④

17.2022年全国硕士研究生招生考试期间，西安工业大学“党员先锋队”赴考保障组联络员，冒雪驱车分别来到9个封控小区，为小区的考生保驾护航。他们在最早一名考生出发前到达封控小区，小区所有考生离开后再离开，下午则要确保最后一名考生返回封控小区后，大家才离开。这说明（ ）

- ①中国共产党坚持以人民为中心，不忘初心
- ②共产党员发挥了先锋模范作用，为民服务
- ③中国共产党坚持靠人民执政，谋国之大事
- ④共产党员身先士卒，为每一位中国人谋利

A.①②                      B.①③                      C.②④                      D.③④

18.教育天平不容倾斜。为了落实“双减”方针，教育部办公厅发布《关于坚决查处变相违规开展学科类校外培训问题的通知》，坚决依法查处以“家政服务”“住家教师”“众筹私教”等名义违规开展学科类校外培训的行为。材料表明政府（ ）

- ①转变工作方法，坚持求真务实
- ②坚持依法行政，促进教育公平
- ③履行管理职能，加强市场监管
- ④畅通民意渠道，科学民主决策

A.①③                      B.①④                      C.②③                      D.②④

19.我国是世界上生物多样性最丰富的国家之一。作为最早签署和批准《生物多样性公约》的缔约方之一，中国一贯高度重视生物多样性保护，坚持在发展中保护、在保护中发展，协同推进生物多样性保护与绿色发展，生物多样性保护取得显著成效。我国的做法说明（ ）

- ①正确发挥主观能动性要尊重客观规律
- ②要正确把握和处理事物间的内在联系
- ③人类可以根据自身需要建立新的联系
- ④改造世界要以发挥主观能动性为前提

A.①②

B.①④

C.②③

D.③④

20.电视剧《功勋》取材于首批八位“共和国勋章”获得者的真实故事。该剧将首批八位功勋人物的人生华彩篇章与共和国命运串联起来，诠释了他们“忠诚、执着、朴实”的人生品格和献身祖国人民的崇高境界。该剧的播出（ ）

①可以弘扬传统道德，实施道德建设工程

②说明只有心系民族复兴，才能提升文创产品质量

③有利于弘扬民族精神，筑牢理想信念根基

④可以激励人们学习功勋人物，勇担民族复兴大任

A.①②

B.①③

C.②④

D.③④

21.美学家朱光潜说过，书是读不尽的，多读不能算是荣誉，少读也不能算是羞耻。你与其读千卷万卷的诗集，不如读一部《国风》或《古诗十九首》，你与其读千卷万卷谈希腊哲学的书籍，不如读一部柏拉图的《理想国》。从哲学的角度看，这段话体现了（ ）

①要善于抓重点，集中力量解决主要矛盾

②抓住矛盾的主要方面，分清主流和支流

③矛盾存在于一切事物中，要敢于承认矛盾

④同一事物在发展的不同阶段有不同矛盾

A.①③

B.①④

C.②③

D.②④

22.国家主席习近平在2022年新年贺词中指出，无论是黄河长江“母亲河”，还是碧波荡漾的青海湖、逶迤磅礴的雅鲁藏布江；无论是南水北调的世纪工程，还是塞罕坝林场的“绿色地图”；无论是云南大象北上南归，还是藏羚羊繁衍迁徙……这些都昭示着，人不负青山，青山定不负人。人们在实践的基础上对人与自然关系的认识已由依存、开发、掠夺转向和谐共处。这一转变说明（ ）

①认识对象、主体、基础的无限发展导致认识的无限性

②认识的发展是一个不断用新认识否定、代替已有认识的过程

③认识在实践的基础上不断深化、扩展、推移

④认识的局限性意味着永远达不到真理性认识

A.①②

B.①③

C.②④

D.③④

23.2021年9月2日，为期20天的首届粤港澳大湾区购物节启动。为因疫情影响，受到打击的港澳零售业商家提供了很好的平台，对接了内地城市的旺盛消费需求。举办大湾区购物节（ ）

①体现了联系的普遍性，在任意两个事物之间建立了新的联系

②遵循了联系的客观性，根据湾区间固有联系建立了新的联系

③利用了联系的条件性，根据人们的消费需求建立了新的联系

④把握了联系的多样性，通过发挥主观能动性做到了趋利避害

A.①②

B.①③

C.②④

D.③④

24.据考古发现，在西周贵族所铸青铜器的铭文中，经常出现称颂先辈之德的语句，如在陕西出土的西周晚期梁其钟，其铭文内容为颂扬先辈功德，忠心服事天子……这反映了（ ）

A.宗法制度受到挑战

B.贵族维护周王地位的传统

C.西周的手工业发达

D.诸侯国与周王室纷争激烈

25.董仲舒强调“天地人，万物之本也。天生之，地养之，人成之。天生之以孝悌，地养之以衣食，人成之以礼乐，三者相为手足，合以成体，不可一无也”。由此可见，董仲舒（ ）

A.继承了儒学的教化思想

B.鼓吹思想的“大一统”

C.提出了“天行有常”说

D.认为君主受命于天

26.唐代农民改变了以前主要只生产粮食的做法，许多农民“庭树纯栽橘，园畦半种茶”；扬州六合县园叟张老始终“园业不废，负耒饷地，鬻蔬不辍”；荆南的崔导“种橘约千余株，每岁大获其利”。这反映出当时（ ）

A.自然经济要求农户多元生产

B.商业发展推动农业生产结构调整

C.技术进步促使农业迅速发展

D.土地兼并导致小农生产遭到破坏

27.明清两代每7个进士就有1个多出自江南，江南进士不但数量多而且名次靠前，最为显赫，明代近四分之一状元和清代半数以上状元出自江南。江南还出现了父子鼎甲、兄弟鼎甲、祖孙状元、叔侄状元等自古稀见的科第盛况。这一历史现象说明（ ）

A.江南各地进士分布均衡

B.经济发展带动文化进步

C.科举制被世家大族垄断

D.经济和政治重心已南移

28.1894年7月初，俄国公使喀西尼致电俄外交大臣：“由我和李鸿章的谈判中看出，中国显然已了解，我国的调停意在迫使日本与中国同时从朝鲜撤退军队，并认为是避免战争的唯一途径。为了报答我们的效劳，中国正式承认俄国具有与中日两国共同解决朝鲜内部组织问题的权利。”这封电报（ ）

A.成为后来三国干涉还辽的借口

B.说明中国找到了制约日本的有效力量

C.表明俄国正积极调停中日争端

D.从侧面反映了李鸿章外交政策的失误

29.1918年3月，《新青年》刊出了“双簧”信。一封是钱玄同化名“王敬轩”故意以封建文化卫道士的口吻，用文言文历数《新青年》和新文化运动的罪状；另一封是刘半农用白话文

---

写的万字长文，对“王敬轩”反对文学革命、为封建旧文学辩护的观点痛加批驳。据此推断，《新青年》此举意在（ ）

- A.宣传马克思主义
- B.扩大新文学的影响
- C.倡导使用白话文
- D.全面否定传统文化

30.1938年3月，国民党于武昌召开临时全国代表大会，决定组建国民参政会，参政会邀请中国共产党及各界人士参加，参政会提出的决议案可在国防最高会议上进行表决。大会决定，对粮食、矿产、税收、金融、交通和物价进行全面管制。这些措施（ ）

- A.遏制了官僚资本的恶性膨胀
- B.表明国民党决定同共产党合作
- C.开启了中国政治协商的先河
- D.有利于应对民族战争的新形势

31.从1980年起，利改税的试点工作逐步在国企中开展。到1983年，全国实行利改税的国营企业、交通、商业企业共实现利润633亿元，比1982年增长了11.1%，其中，企业留利比1982年增长28.2%。这说明利改税（ ）

- A.使所有制体制受到了冲击
- B.奠定了城市经济体制改革的基础
- C.扩大了企业经营自主权
- D.坚定了农村经济体制改革的信心

32.古希腊人认为，外部的经验不能算是真正的知识，只能算作意见。只有出自人自身的内在性知识才是真正的知识，只有这种内在性的知识才能真正不依赖任何外部条件，完全为了自己而存在。这一知识观（ ）

- A.完全摆脱了神学的束缚
- B.深受人文精神影响
- C.明显具有相对主义倾向
- D.缺乏理性思想精神

33.有学者指出，15世纪末16世纪初，西欧诸国对海岸线与大陆轮廓的测量日益精准，并在地图上用边界线和色块区分不同国家或政治体，且以物产和民族志图像作为装饰。据此推知，欧洲近代地图学的发展（ ）

- A.激化了列强之间的矛盾
- B.服务于帝国主义的扩张
- C.折射出殖民主义的色彩
- D.体现了科技革命的作用

34.万雪梅在《罗斯福新政如何解决失业问题》一文中总结说：“当人与观念或制度发生冲突时，罗斯福总是把人民群众放在第一位加以考虑。”罗斯福甚至以政府大量财政赤字为代价来推进就业政策的实施，以颁布新税法来平衡不同阶层的贫富差距等。这表明新政（ ）

- A.以改善人民生活为宗旨
- B.遵循了以往自由主义经济观念
- C.一定程度上符合了民意
- D.强化国家干预经济来摆脱危机

35.1947年杜鲁门主义主张“遏制共产主义”不应忽视“中间地带”，要面向全世界。20世

纪 70 年代初，尼克松鼓励亚洲盟友自己承担国内安全和军事防务的责任，美国与其全球盟友之间形成“伙伴关系”，对苏联搞缓和。这一变化（ ）

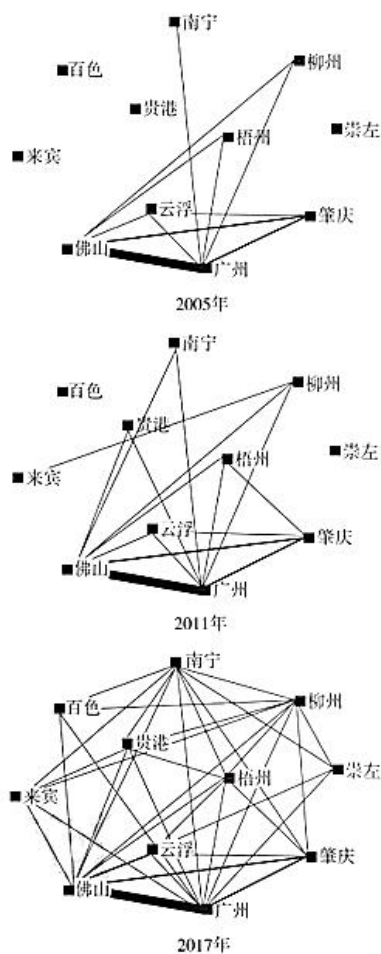
- A.表明美国外交发生根本转折
- B.是大国政治力量分化组合的结果
- C.促使多极化趋势进一步发展
- D.为美欧形成平等关系创造了条件

二、非选择题：共 160 分。第 36~42 题为必考题，每个试题考生都必须作答。第 43~47 题为选考题，考生根据要求作答。

(一) 必考题：共 135 分。

36. 阅读材料，完成下列要求。(22 分)

珠江—西江经济带作为我国首个直接联系东西部地区的跨省区、跨不同发展阶段的经济带，覆盖广东、广西两省区。2014 年，国务院明确将其打造为西南、中南地区开发发展新增长极的目标，佛山是我国四大名镇之一，位于珠江口，距离广州近。目前“一带一路”倡议对区域内工业经济联系强度影响显著。如图为珠江—西江经济带城市群工业经济社会网络结构。



珠江—西江经济带城市群工业经济社会网络结构。

注：线条的粗细代表工业经济联系强度的大小，图中忽略了工业经济联系强度小于1的连线。

(1) 指出珠江—西江经济带城市群中工业处于核心地位的城市名称及并说明理由。(8分)

(2) 简析“一带一路”倡议对区域内工业经济联系强度影响显著增强的主要原因。(8分)

(3) 简述珠江—西江经济带城市群的工业经济良性互动发展的主要意义。(6分)

37. 阅读材料，完成下列要求。(24分)

土壤有机质含量是土壤肥力的重要指标之一，是指单位体积内土壤中含有的各种动植物残体与微生物及其分解合成的有机物质的数量，土壤温度和水分直接影响土壤有机质的形成与分解。如图为庐山土壤类型分布示意图。

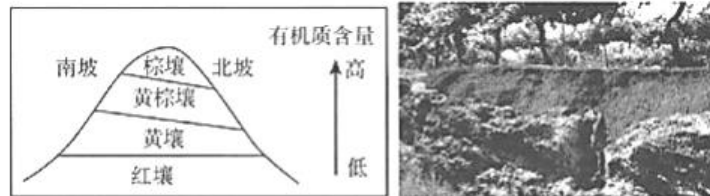


图 1

图 2

(1) 据图指出庐山土壤的分布特点并分析其原因。(8分)

---

(2) 推测随着海拔升高, 庐山土壤有机质含量的变化及原因。(10分)

(3) 庐山北坡土层通常厚于南坡, 试对此做出合理的解释。(6分)

38. 阅读材料, 完成下列要求。(14分)

甲企业着眼于未来市场的潜在需求, 力求成为技术和市场的先驱, 通过科技的发展带动产品整体技术水平的提升, 提高产品的附加值。它在充分发挥自身科研优势的基础上, 率先在国内组建省级气体研究中心, 通过跟踪国内、国际气体行业先进技术, 引进吸收和研究开发新产品、新技术、新工艺、新设备。目前, 甲企业利用自行研发的二氧化碳动态减压分离提纯工艺技术, 可生产出纯度为 99.999% 的特纯二氧化碳产品, 产品质量超过 GB—10621—2006 国家标准并在国际上处于先进水平。利用该工艺生产的二氧化碳产品经中科院大连光明所鉴定, 产品纯度业内领先, 产品质量稳定可靠, 成品率高达 99%。该技术已获得国家发明专利, 取得了良好的经济效益。

经过多年的发展, 甲企业已成为目前我国国内以化工尾气为原料, 年产能最大的食品级液体二氧化碳生产企业, 是我国液体二氧化碳的主要供应商之一, 在行业内具有明显的竞争优势。

结合材料并运用新发展理念的知识, 分析说明甲企业取得竞争优势的原因。

39. 阅读材料，完成下列要求。(12分)

2021年是中国共产党成立100周年。百年征程波澜壮阔，百年奋斗铸就辉煌，重温百年征程上的中国共产党人的故事，凝聚起全面建设社会主义现代化国家的磅礴力量。

碧血丹心	半条被子	延安整风	领袖足迹
1927年陈延年被押赴刑场，刽子手喝令他跪下，但他坚守信仰，高声回应：“革命者光明磊落、视死如归，只有站着死，决不跪下！”1928年陈乔年被捕，他坚守信念，不畏牺牲，乐观地对同志们说“让我们的子孙后代享受前人披荆斩棘的幸福吧！”	红军长征途中，3名女红军借宿在湖南汝城县沙洲村徐解秀老人家中，临走时，女红军把自己仅有的一床被子剪开，将半条被子留给了徐解秀老人。老人说：“什么是共产党？共产党就是自己有一条被子，也要剪下半条给老百姓的人。”	为进一步纯洁党风党纪，中国共产党在全党范围内开展了延安整风运动。主要内容是反对主观主义以整顿学风，反对宗派主义以整顿党风，反对党八股以整顿文风，提高了广大党员的思想理论水平，增强党的凝聚力和战斗力。	从三江源到长江岸边，从湖南十八洞村到安徽大湾村习近平总书记夙夜在公，实地考察调研，足迹遍布祖国大江南北。他关心并指导着生态保护、决战脱贫、文化传承、民族团结、科技创新、电商发展、百姓生活、疫情防控。

运用《政治生活》知识，从上述故事中寻找中国共产党创造奇迹的基因密码。

40. 阅读材料，完成下列要求。(26分)

党的十九届六中全会审议通过的《中共中央关于党的百年奋斗重大成就和历史经验的决议》指出：一百年来，党领导人民进行伟大奋斗，在进取中突破，于挫折中奋起，从总结中提高，积累了宝贵的历史经验。坚持人民至上。党的根基在人民、血脉在人民、力量在人民，人民是党执政兴国的最大底气。民心是最大的政治，正义是最强的力量。党的最大政治优势是密切联系群众，党执政后的最大危险是脱离群众。党代表中国最广大人民根本利益，没有任何自己特殊的利益，从来不代表任何利益集团、任何权势团体、任何特权阶层的利益，这是党立于不败之地的根本所在。坚持敢于斗争、敢于胜利，是党和人民不可战胜的强大精神力量。党和人民取得的一切成就，不是天上掉下来的，不是别人恩赐的，而是通过不断斗争

---

取得的。只要我们把握新的伟大斗争的历史特点，抓住和用好历史机遇，下好先手棋、打好主动仗，发扬斗争精神，增强斗争本领，凝聚起全党全国人民的意志和力量，就一定能够战胜一切可以预见和难以预见的风险挑战。

(1) 结合材料，运用“社会历史的主体”相关知识分析党的根基在人民、血脉在人民、力量在人民的缘由。(12分)

(2) 结合材料并运用“中华民族精神”的相关知识，说明发扬斗争精神在中华民族伟大复兴征程中的作用。(10分)

(3) 某校准备开展十九届六中全会宣讲活动，请结合学生的认知规律和思想实际提供两条建议。(4分)

41. 阅读材料，完成下列要求。(25分)

**材料一** 中国经济政策思想自先秦以来，其轴心一直是国家财政。在大一统的专制体制下，对国家政权来说，最重要的经济问题是要使社会能负担起一支数量庞大的常备军和一大批国家官吏，国家财政势必就成为国家最迫切也是最主要的经济轴心。国家考虑和制定各项经济政策都势必站在国家本位的立场上，把财政奉为轴心。一切经济政策最后都直接、间接地归于这一轴心之上。历朝历代，当某一具体的社会经济问题引起当政者关注，并力图制定相应的措施去应付时，大多是因为它们或多或少涉及、影响到了国家财政这一根本问题。可以说古代中国社会的经济政策思想从一开始即表现为一种“国家本位”的思想。

**材料二** 西方社会的经济思想一开始即被看作主要是奴隶主的家庭经济学。它们虽然也

---

关心和探讨社会经济问题，但是它们重农的目的在于为奴隶主经济的“家政”服务。古代西方思想家也关注社会工商业，并且不约而同地也存有鄙视和反对商业资本的倾向，但是，他们并没有从国家本位的需要出发，形成法定的政策和统治思想，更没有如同中国那样，产生排斥私人工商业，建立起强有力的官方工商业的政策思想。与古代中国经济思想大为不同的是，在古希腊、罗马的经济学说中，几乎找不到较为完整的国家财政赋役政策思想。实际上，不仅是财政、赋税，即使在其他方面，西方社会的经济思想从一开始就没有表现出或者转化为较为成熟的国家本位的政策思想，其主要是一种以奴隶主私人经济为本位而不是以国家为本位的经济思想；它考察、关注的更多是奴隶主私人经济而不是国家经济；它不是以“富国”为核心，而是以“家政”为核心。

——以上材料均摘编自张忠民《古代中西方经济政策思想历史导向之比较》

(1) 根据材料一并结合所学知识，概括我国古代经济政策思想的特点并分析其原因。(12分)

(2) 根据材料二并结合所学知识，指出古代西方经济政策思想与古代中国经济政策思想的不同，并说明其影响。(13分)

42. 阅读材料，完成下列要求。(12分)

#### 邮票中的党史

解放区邮票是指土地革命时期、抗日战争时期、解放战争时期中国共产党领导的各革命根据地或解放区的人民邮政发行的邮票，也包括新中国成立初期各大行政区发行的邮票。由于解放区特指中国共产党领导的红色政权控制区，因此所发行的邮票也称“红色邮票”。



图 1: 1932 年发行的中华苏维埃邮票, 图案为地球上飘扬着一面旗帜, 旗帜上有五角星和镰刀锤头。



图 2: 晋绥边区邮政管理局发行的陕甘宁边区“农耕图”邮票, 图案为一位农民正在赶着牲畜耕地。



图 3: 1949 年《淮海战役胜利纪念》邮票。左边为解放军战士在毛泽东旗帜下进军, 右边是淮海战役的作战地图。

根据材料并结合所学知识, 以“邮票中的党史”为主题, 予以阐述。(要求: 论题明确, 表述成文, 史实准确, 逻辑严谨。)

(二) 选考题: 共 25 分。请考生从 2 道地理题、3 道历史题中每科任选一题作答。如果多做, 则每科按所做的第一题计分。

43.[地理——选修 3: 旅游地理] (10 分)


永泰古城位于甘肃省白银市景泰县寿鹿山麓下, 修筑于明万历三十六年(1608 年), 距今已有 400 多年的历史, 是明政府为防御北方的少数民族入侵而修建。建成后即成为军事要塞, 2006 年被列为全国重点文物保护单位, 2012 年成为“中国传统村落”。先后取景拍摄了《西部热土》《十送红军》《汗血宝马》等十几部影视剧, 已成为我国西北地区知名的影视城, 但如今, 游客越来越少。



推测永泰古城游客较少的原因并提出解决措施。

44.[地理——选修6: 环境保护] (10分)

2021年12月,中央第四生态环境保护督察组督察宁夏回族自治区时发现,位于石嘴山市平罗县的宁夏平罗工业园区水体污染隐患显著。截至2021年12月,在污水处理量低下甚至停运期间,大量污水不知去向,部分污水被排放入距离黄河干流仅2.6千米的1号、2号尾水库,造成库中水体颜色发黑、气味刺鼻,对周边村民生产生活造成严重影响,群众反映强烈。为此,宁夏回族自治区生态环境信息与应急中心发布宁夏回族自治区“十四五”期间流域突发水污染事件环境应急“南阳实践”工作方案。



根据材料和所学知识分析工业污水对当地生态环境影响的主要表现及防治措施。

45.[历史——选修1: 历史上重大改革回眸] (15分)

**材料** 人事改革是春秋时期齐国管仲改革的一项重要内容,他指出:“霸王之所始也,以人为本。”提出用人原则是在任命一切官员时,都必须根据其实际的政绩,特别是要有取信于民的真实政绩,而不是虚假的、表面的政绩。实行五官制,国相以下,中央设五官之制,分别为:大行,负责外交事务;大司田,掌管经济;大司马,主管军事;大司理,主管司法;大谏,主管监督。实行布宪制,即国君颁布政令,在正月宣布法令政策,明确规定各级官吏一年中的任务,各级官吏回去以后要逐级传达,过夜之后传达叫“留令”,罪在不赦,多传达、少传达都要受到重罚,腊月底是汇报总结工作,官吏述职,根据官吏功过,分别给予奖罚。管仲还创立了三选法,即首先由基层官吏组织考察推荐,长官考评,最后由桓公策问(答辩)任用,选贤的标准是德才兼备。管仲的人事改革顺应了时代潮流,为齐国强盛奠定了一

---

定的基础。

——摘编自宋玉顺《管仲改革的历史经验及其当代价值》

(1) 根据材料并结合所学知识，概括管仲人事改革的特点。(6分)

(2) 根据材料并结合所学知识，分析管仲人事改革的意义。(9分)

46.[历史——选修3: 20世纪的战争与和平] (15分)

**材料** 莱特湾大海战是指在1944年10月23日至10月26日之间，在菲律宾莱特湾周围海域所发生的四场相对独立而又相互关联的海空战以及其他几次零星海空战的总称。美参谋长联席会议命令麦克阿瑟和尼米兹组成联合部队，派出航母18艘，战列舰12艘，重巡洋舰11艘以及飞机近2000架等，后美军在战斗中被击沉航空母舰1艘，人员伤亡不足三千。日军参战的兵力可以说倾其所有，其人员伤亡超过一万。美军对此次行动实施了严格的保密，作战计划翔实周密。而日军多次将截获的告急文件错误解读，在战争中节节失利。莱特湾海战是结束太平洋战争的序幕，此役摧毁了日本海军的绝大部分实力，不可一世的日本帝国海军就此一蹶不振。

——摘编自赵国栋《揭开莱特湾海战大幕的无名小卒》

(1) 根据材料并结合所学知识，归纳莱特湾海战美军取得胜利的原因。(9分)

(2) 根据材料并结合所学知识，分析莱特湾海战取得胜利的意义。(6分)

---

47.[历史——选修4: 中外历史人物评说] (15分)

**材料** 谢家福(1847—1897年), 中国近代著名的慈善家, 洋务派下层中的开明绅士。光绪三年(1877年), 谢家福专门为山东灾区撰写捐启。捐启写好后, 谢家福又将之卷入塔捐文册, 并亲绘捐册宝塔图样。谢家福雇定刻匠, 限三日内印出二百本。塔捐文册在友朋间分发之后, 捐款人十分踊跃。后来他又寄信给亲家黄梅先(仙), “求其在湘北筹款”。在上海, 谢家福与江云泉、徐润等人商定上海至烟台轮船招商局系统之船只, 若赈局钱物、信件、人员往来时皆可免费。这成为之后民间办赈的一个定式。在此后多年的义赈组织办理过程中, 轮船招商局、电报局、文报局等官方和民间机构都对民捐民办的慈善事业给予了大力支持, 减免了相关业务费用。在宏观层面, 谢家福与其他慈善家一起, 创立了中国近代义赈组织运行的三位一体式的制度框架, 其包括依托机构、筹资机构和派出机构。在微观层面, 谢家福创制的义赈组织微观管理制度主要有募捐制度、宣传制度、公信制度、交涉制度、局厂制度、褒奖制度等。

——摘编自周秋光等《中国近代慈善事业研究》

(1) 根据材料, 概括谢家福在山东赈灾中的善举。(8分)

(2) 根据材料并结合所学知识, 简述谢家福的慈善事业的特点。(7分)

# 2022 届高考文科综合核心猜题卷

## 参考答案

### 一、选择题

1.D【解析】由材料信息“静宁县位于陇东地区黄土高原腹地”可知，其位于黄土高原地区，自然条件适宜，昼夜温差大，苹果质量好，经济效益高，D 正确；光热条件好不一定苹果产业发展好，A 错误；无霜期长不是主要原因，B 错误；工业发达与苹果产业无直接关系，C 错误。

2.B【解析】结合图表可知，2010—2016 年静宁县苹果产业的区位熵始终大于 3。结合材料可知，区位熵大于 1 说明其产业具有竞争优势，专业化水平高，B 正确。

3.D【解析】由所学知识可知，图中 2012—2016 年的区位熵逐年下降，说明其区域专业化水平有所下降，这可能是其他产区竞争激烈，农业劳动力的转移，使得该地苹果生产的优势逐渐减弱，专业化程度有所降低，③④正确；气候变暖不一定会影响苹果产业变化，①错误；如果是全国的苹果产业价格整体下降，则该区域苹果优势不会下降，②错误。D 正确，A、B、C 错误。

4.C【解析】北京时间 2021 年 7 月 6 日 23 时 53 分火箭点火发射，结合所学知识可知，地球上新的一天所跨经度范围为从 0 时所在经线向东到国际日期变更线（大致为  $180^{\circ}$  经线），经计算可得，0 时所在经线约为  $122^{\circ}\text{E}$ ，因此全球新的一天所跨经度范围小于旧的一天，A 错误；伦敦与北京地方时相差 8 小时，火箭点火发射时，伦敦时间为 7 月 6 日 15: 53，B 错误；洛杉矶与北京地方时相差 16 小时，火箭点火发射时，洛杉矶时间为 6 日 7: 53，C 正确；纽约与北京地方时相差 13 小时，火箭点火发射时，纽约地方时为 10: 53，7 月 6 日太阳直射点位于北半球，上午时太阳位于东北方向的天空，自由女神像影子朝向西南方向，D 错误。

5.D【解析】卫星发射时间为北京时间 2021 年 7 月 6 日，此时至国庆（10 月 1 日）太阳直射点一直向南移动，A 错误；地球在公转轨道上离开远日点向近日点移动，地球公转速度由慢变快，B 错误；7 月 6 日至秋分日（约 9 月 23 日），北极地区出现极昼，但秋分日（约 9 月 23 日）以后，北极地区不再有极昼现象，C 错误；此期间太阳直射点向南移动，北京白昼逐渐变短，日出时间逐渐变晚，天安门广场升旗逐日推迟，D 正确。

6.B【解析】2021 年 7 月 6 日滞留一周，该时段太阳直射点仍在北半球且向南移动，西昌卫星发射基地昼渐短夜渐长且昼长夜短，故日出东北，日落西北，因太阳直射点向南移动，故

---

西昌正午太阳高度减小，发射塔影子变长，B 正确。

7.B【解析】由图文材料并结合所学知识可知，香港需要供水的主要原因是香港人口密度大，经济发达，生活、生产对淡水需求量大，①正确；香港降水总量大，但陆地面积小，四周环海，陆地上储存淡水（地表水、地下水）的条件差（河流短小），储水量较少，③正确；香港降水充沛，可推理出水资源丰富，不是导致调水的主要原因，香港调水的主要原因是香港降水季节分配不均，岛屿面积小，水资源储量少，人口密度大，经济发达需水量大，②④错误。A、C、D 错误，B 正确。

8.A【解析】由图文材料可知，寻乌县位于河流上游，为保障下游的水质，需要当地按照相关要求放弃渔业、林业、矿产资源的开发，有利于保障寻乌县的生态环境，A 正确；上游地区为中下游地区提供水源，能够得到中下游地区的经济补偿，可缓解流域水资源分配的矛盾，B 错误；使用从较远地区调来的水，需要补偿上游地区的生态保护，会增加香港用水的使用成本，C 错误；香港既没有天然湖泊和河流，也缺乏足够的地下水资源，且香港四周环海，地下水不可用，D 错误。

9.D【解析】据近十年辽宁经历极端长历时暴雨的站数及次数时间分布统计图可知，辽宁省 8 月上旬经历极端长历时暴雨的站数最多，因此近十年，其经历极端长历时暴雨降水范围最大的时段是 8 月上旬，D 正确。

10.B【解析】结合等压线示意图可知，辽宁东侧近地面为高压（西侧为低压，风由高压吹向低压），且其位于北半球，风向受到地转偏向力影响向右偏转，形成偏南风，B 正确。

11.C【解析】结合图文材料分析可知，辽宁未受到蒙古气旋或江淮气旋影响，A、B 错误；此时辽宁并未受台风控制，D 错误；在副热带高压作用下，偏南风将海洋大量水汽带到陆地，满足降水条件，形成充足的降水，C 正确。

12.C【解析】数字货币钱包不是电子支付卡，①错误。只要在手机上安装数字货币钱包 APP，不需要网络就可以实现交易和支付，这说明数字货币钱包简化了收款手续，为居民生活提供了便利，也能加速货币流通，推动市场交易的顺利进行，②④正确。数字货币钱包并没有丰富纸币的职能，③错误。故选 C。

13.C【解析】本题材料反映的是消费者通过手机进行多样化的线上消费，而智能化的消费品指的是产品本身的智能化，如智能扫地机器人等智能家电。材料中购物、问诊、美容、护理都不是智能化的消费品，①不符合题意。材料中消费对象是传统的，但采取的是线上消费这一新的消费方式，这启示我们要不断提升传统消费能级，加快培育新型消费，为消费者提供便利，②正确。线上消费发展的重要条件是互联网与网上消费平台，它们直接影响消费者的

---

消费体验，所以我们要善于搭建消费升级平台，优化流通网络布局，③正确。材料没有涉及消费产品的质量问題，④不符合題意。故選 C。

14.B【解析】释放煤炭先进产能，增加煤炭进口，可以增加煤炭供给，缓解煤电价格倒挂，促进电力生产，增加电力供给，①正确。上调生产生活用电价格会影响居民生活，②错误。调整财政政策，给经济降温不符合当前我国经济形势和财政政策取向，且不能盲目减少生产性用电需求，③错误。对高能耗、高排放和低产出企业进行限煤限电限产，有利于减少煤电不合理需求，有效缓解电力供需矛盾，④正确。故選 B。

15.A【解析】海信项目落地埃塞俄比亚，并将以此为契机迎来其 B2B 产业在全球的更大市场机会，体现了海信贯彻开放发展理念，坚持走出去战略，培育对外开放优势，充分利用国际资源和开拓国际市场，①②正确。当前世界经济最大的特点是经济全球化而不是一体化，③错误。企业不能优化产业体系，④错误。故選 A。

16.A【解析】教育部就《中华人民共和国教师法（修订草案）（征求意见稿）》公开征求意见，有助于充分反映民意，体现立法的民主性，有助于广泛集中民智，增强立法的科学性，①②正确。信息公开制度是公民参与民主监督的制度，③错误。我国公民基本的民主权利是选举权和被选举权，不是民主决策，④错误。故選 A。

17.A【解析】“西安工业大学‘党员先锋队’赴考保障组联络员，冒雪驱车分别来到 9 个封控小区，为小区的考生保驾护航”，体现了中国共产党不忘初心，坚持以人民为中心，党员发挥了先锋模范作用，为民服务，①②正确。材料体现的是中国共产党坚持为人民执政，没有体现靠人民执政，也没有体现谋国之大事，③不符合題意。“为每一位中国人谋利”表述错误，应该是为人民谋利益，而且是正当利益，不可能为敌对分子谋利益，④错误。故選 A。

18.C【解析】政府要坚持求真务实的工作作风，坚持从群众中来到群众中去的工作方法，①错误。教育部办公厅提出要坚决依法查处以“家政服务”“住家教师”“众筹私教”等名义违规开展学科类培训、逃避监管的隐形变异问题，表明政府履行管理职能，加强市场监管；坚持依法行政，促进教育公平，②③正确。材料中没有体现政府畅通民意渠道，科学民主决策，④不符合題意。故選 C。

19.A【解析】中国在保护生物多样性中的做法和取得的成效，说明正确发挥主观能动性要尊重客观规律，正确把握事物间的内在联系，①②正确。人们可以根据事物固有的联系建立新的具体的联系，③错误。改造世界要以尊重客观规律为前提，④错误。故選 A。

20.D【解析】该剧的播出可以弘扬优秀传统美德，①错误。心系民族复兴，有利于提升文创产品质量，“只有心系民族复兴，才能提升文创产品质量”的说法过于绝对，②排除。八位

---

功勋人物与共和国命运相连，具有“忠诚、执着、朴实”的人生品格和献身祖国人民的崇高境界，该剧的播出有利于弘扬民族精神，筑牢理想信念根基，激励人们学习功勋人物，勇担民族复兴大任，③④正确。故选 D。

21.A【解析】书是读不尽的，读千卷万卷的书，不如读最有用的一本书，说明要善于抓重点，集中力量解决主要矛盾，不涉及抓住矛盾的主要方面，分清主流和支流，①正确，②不符合题意。多读不能算是荣誉，少读也不能算是羞耻，说明矛盾存在于一切事物中，要敢于承认矛盾，③正确。材料没有体现在发展的不同阶段，人应该如何读书，④不符合题意。故选 A。

22.B【解析】人们在实践的基础上对人与自然关系的认识已由依存、开发、掠夺转向和谐共存。这一转变说明认识具有无限性，认识的对象是无限变化的物质世界，认识的主体是世代延续的人类，认识的基础是不断发展的社会实践，因此人类认识是无限发展的，①③正确。认识的发展是一个辩证的发展过程，要经历肯定——否定——再到否定之否定的辩证发展过程，而不是代替已有认识，②错误。认识具有无限性，真理是人们对客观事物及规律的正确认识，在实践的基础上，人们可以获得事物的真理性认识，“认识的局限性意味着永远达不到真理性认识”表述错误，④错误。故选 B。

23.C【解析】联系具有普遍性，但并不意味着任意两个事物之间都能建立新的联系，因为联系是有条件的，①错误。粤港澳大湾区购物节为因疫情影响，受到打击的港澳零售业商家提供了很好的平台，对接了内地城市的旺盛消费需求，这项做法遵循了联系的客观性，根据湾区间固有联系建立了新的联系；把握了联系的多样性，通过发挥主观能动性做到了趋利避害，②④正确。联系具有条件性，世界上任何联系都是有条件的，离开条件一切都无法存在；但是联系具有客观性，人们不能根据需要建立联系，材料中粤港澳大湾区购物节是根据湾区间固有联系建立了新的联系，③错误。故选 C。

24.B【解析】材料反映了西周贵族的青铜器上经常出现称颂先辈、忠心周天子的铭文，甚至西周晚期也有这样的铭文出现，结合所学可知，这一现象反映了西周贵族维护周王地位的传统，B项正确。材料反映的是对宗法制度的维护，而非挑战，排除 A 项；材料反映的是西周青铜器上的铭文内容，无法说明手工业发达程度，排除 C 项；材料反映的是贵族维护周王地位，而不是与周王室纷争，排除 D 项。

25.A【解析】董仲舒提出“人成之以礼乐”，体现了儒家礼乐教化思想，A 项正确。材料不涉及思想的“大一统”，排除 B 项；材料没有阐述天运行的规律性，排除 C 项；材料不涉及“君主受命于天”的问题，排除 D 项。

26.B【解析】根据材料“庭树纯栽橘，园畦半种茶”可知经营性蔬菜、水果的大量种植生产，

---

反映了当时出现农产品商业化的现象,这是唐代商品经济的发展推动农业生产结构不断调整的结果, B 项正确。材料信息反映的是唐朝的商品经济发展,并不是强调自然经济,排除 A 项;材料信息并没有涉及技术进步的表述,排除 C 项;材料信息并没有涉及土地兼并的影响,排除 D 项。

27.B【解析】根据“明清两代每 7 个进士就有 1 个多出自江南,江南进士不但数量多而且名次靠前,最为显赫,明代近四分之一状元和清代半数以上状元出自江南”可得出,随着江南地区经济的发展,成为经济重心,其在文化教育方面也处于优势地位,说明经济发展带动文化进步, B 项正确。均衡的说法错误,排除 A 项;材料没有体现谁垄断科举,排除 C 项;材料不能反映政治重心南移,明清政治重心在北方,排除 D 项。

28.D【解析】据材料及所学可知,甲午战前,李鸿章在外交上推行“以夷制夷”的方针,把解决中日争端的希望寄托于西方列强的“调停”上,反映了其外交政策的失误,甲午战争的结果也证明确实如此, D 项正确, B 项错误。A 项表述与史实明显不符,三国干涉还辽的原因是日本侵占辽东半岛威胁到三国的利益,排除;材料也体现不出俄国正积极调停中日争端,排除 C 项。

29.B【解析】根据材料可知,通过刊登“双簧”信,用争论的方式吸引人们的注意力,进而扩大新文学的影响, B 项正确。材料未涉及马克思主义,排除 A 项;《新青年》此举意在扩大新文学的影响,“倡导使用白话文”不是主要目的,排除 C 项;材料未体现“全面”否定传统文化,排除 D 项。

30.D【解析】由材料可知,国民政府决定邀请中国共产党及各界人士组成参政会,参政会有参政和提议的权利,但并无决策权,同时国民政府决定实行经济统制措施。结合材料给出的时间可知,当时是抗日战争时期,国民政府邀请中国共产党及各界人士参政有利于抗战,实行经济统制措施有利于集中资源抵抗日本侵略者, D 项正确。国民政府实行经济统制措施,事实上加剧了官僚资本的恶性膨胀, A 项错误,排除;第二次国共合作开始于 1937 年, B 项错误,排除;中国政治协商开始于 1946 年召开的政治协商会议, C 项错误,排除。

31.B【解析】利改税在国企中开展,实现了利润增长,奠定了城市经济体制改革的基础, B 项正确。利改税没有冲击所有制体制,我国仍然是公有制体制,排除 A 项;利改税没有扩大企业的经营自主权,排除 C 项;材料不涉及农村的信息,且在利改税之前就已经进行农村经济体制改革,时间不符,排除 D 项。

32.B【解析】由材料可知古希腊人重视人自身的内在性知识,这强调了个人的价值, B 项正确。“完全摆脱”说法过于绝对,排除 A 项;知识是为个人而存在的,这并不是相对主义,

---

排除 C 项；材料中古希腊人对知识的理解与理性思想无直接联系，排除 D 项。

33.C【解析】据题意可知，西欧诸国对不同的国家或政治体以当地物产和民族志图像为装饰，明显是为了向这些地区进行扩张做准备，由此可知折射出殖民主义色彩，C 项正确。仅仅是地图标注并不一定会激化列强之间的矛盾，排除 A 项；15、16 世纪西欧诸国还没有进入帝国主义阶段，没有出现科技革命，排除 B、D 两项。

34.C【解析】材料反映了罗斯福新政中就业政策的内容，体现了罗斯福总统在解决失业问题时的相关立法、制定的政策，一定程度上符合了民意，C 项正确。罗斯福代表的是资产阶级的利益，新政的实质是在维护资本主义制度的前提下，对资本主义生产关系的局部调整，维护的是少数大资本家的利益，排除 A 项；材料反映了罗斯福新政违背了以往资本主义国家的自由主义经济观念，“遵循”一词表述错误，排除 B 项；材料反映的财政措施只是罗斯福新政缩小贫富差距，一定程度上满足人民利益的手段，“强化国家干预经济”在材料中不能体现，排除 D 项。

35.B【解析】根据材料并结合所学知识可知，二战后，美国实力强大，与苏联对峙，妄图独力称霸世界，而尼克松主义之所以战略收缩，是美国实力衰落、欧日崛起、苏联重点发展军事工业等诸多因素共同作用的产物，B 项正确。“根本转折”不符合史实，排除 A 项；多极化趋势进一步发展出现于两极格局解体后，排除 C 项；20 世纪 70 年代，西欧国家仍然受控于美国，排除 D 项。

## 二、非选择题

36.【答案】(1) 城市：广州；佛山。(2 分)

理由：广州为广东省省会城市，经济发展水平高，研发能力强；(3 分) 佛山营商环境好，政策优惠力度大，产业结构调整及时，工业经济联系强。(3 分)

(2) “一带一路”倡议区域协作能力逐渐增强，行政区之间阻碍减弱；(2 分) 一体化发展政策推进；(2 分) 区域产业集聚性加强；(2 分) “一带一路”区域交通网逐渐完善。(2 分)

(3) 缩小区域内广东、广西的经济差距；(2 分) 提升广州等核心城市的辐射带动作用；(2 分) 实现广东、广西的工业协同发展，促进区域经济发展，增加区域的影响力，增加就业机会，促进产业结构优化升级。(2 分)

【解析】(1) 由图表信息可知，珠江—西江经济带城市群中工业处于核心地位的城市为广州和佛山。理由可从广州为广东省省会城市，经济发展水平高，研发能力强等角度分析；佛山可从营商环境好，政策优惠力度大，产业结构及时得到调整等角度分析。

(2) “一带一路”倡议对区域内工业经济联系强度影响显著增强，主要是区域内一体化发展

---

政策推进，区域产业集聚性加强，“一带一路”区域协作能力逐渐增强，行政边缘保护度减弱和区域交通网逐渐完善的结果。

(3) 珠江—西江经济带城市群的工业经济良性互动发展，有助于缩小区域内广东、广西的经济差距，提升广州、佛山等核心城市的辐射带动作用，广东以技术和资金带动广西快速发展，实现广东、广西区域的工业协同发展。

37. **【答案】** (1) 分布特点：土壤类型多样；(2分) 随海拔变化，土壤类型发生变化。(2分) 原因：庐山受地形抬升的影响，山地垂直分异比较明显；(2分) 随着海拔的升高，水热状况发生变化，土壤的垂直分异更加明显，土壤类型多样。(2分)

(2) 变化：随着海拔升高土壤有机质含量增多；(1分) 原因：随着海拔升高，气温降低，微生物活动变慢；(3分) 庐山形成过程中海拔较高地区，生物丰富多样；(3分) 海拔越高，水分越少，有机质的分解越少。(3分)

(3) 北坡为阴坡，太阳辐射较弱，水分蒸发少，土壤水分含量较高，植被覆盖高；(3分) 北坡气温低，地表水多，淋溶作用强，有机质下渗量大，所以深厚。(3分)

**【解析】** (1) 由图可知，庐山土壤类型多样，随海拔变化土壤类型发生变化。庐山土壤类型多样的原因，可以从地形、垂直差异等方面分析作答。

(2) 随着海拔升高庐山土壤有机质含量升高，原因可以从气温、微生物活动、有机质的形成和分解等角度去分析作答。

(3) 庐山北坡土层通常厚于南坡，主要原因可以从气温、水分、植被覆盖等方面分析作答。

38. **【答案】** ①创新是发展的基点。(2分) 甲企业践行了创新发展理念，通过提高自主创新能力，掌握核心技术，研发新产品新工艺来提高产品的质量与附加值，形成企业自己的竞争优势。(3分) ②坚持绿色发展，必须坚持节约资源和保护环境的基本国策，走可持续发展道路。(3分) 甲企业以化工尾气为原料，生产食品级液体二氧化碳是高质量的绿色产品，符合绿色发展的。(2分) ③甲企业以开放发展理念为指导，顺应经济全球化发展的趋势，吸收引进国际行业先进技术，为我所用，充分发挥后发优势，取得良好经济效益。(4分)

**【解析】** 解答本题的关键是审题，一审试题范围指向“新发展理念”的知识，二审“企业”这一主体，把创新、协调、绿色、开放、共享五大理念结合企业经营成败的因素一一比对，可得出创新发展、绿色发展、开放发展的理念与甲企业取得竞争优势的原因最为契合，二者进行综合分析后即可得出答案。

39. **【答案】** ①坚持以马克思主义为指导，有坚定的理想信念。材料中的故事体现了中国共产党人坚守信仰、坚贞不屈的精神。(3分) ②中国共产党坚持以人民为中心，践行全心全

---

意为人民服务的宗旨，坚持立党为公，执政为民，贯彻群众路线。材料中的故事体现了打江山、守江山，守的是人民的心。(3分) ③加强党的自身建设，坚持全面从严治党，保持党的先进性、纯洁性。材料中的故事体现了中国共产党进一步纯洁党风、党纪。(3分) ④坚持党的领导是中国各项事业不断取得胜利的政治保证，要坚持和加强党的全面领导。材料中的故事体现了党发挥总揽全局、协调各方的领导核心作用。(3分)

**【解析】** 本题考查中国共产党的相关知识。属于分析说明类主观题。分析材料：“革命者光明磊落、视死如归，只有站着死，决不跪下！”体现了坚持以马克思主义为指导，有坚定的理想信念；“临走时……留给了徐解秀老人”，体现了中国共产党坚持以人民为中心，践行全心全意为人民服务的宗旨，坚持立党为公，执政为民，贯彻群众路线；“为进一步……开展了延安整风运动”，体现了加强党的自身建设，坚持全面从严治党，保持党的先进性、纯洁性；“他关心……疫情防控”，体现了坚持党的领导是中国各项事业不断取得胜利的政治保证，要坚持和加强党的全面领导。

40. **【答案】** (1) ①人民群众是社会历史的主体和历史的创造者，党只有深深地植根于人民群众之中，赢得群众对党的信任，才能不断夯实党的执政根基。(4分) ②群众观点和群众路线，是党的生命线和根本工作路线，是保持党同人民群众血肉联系的法宝。(4分) ③人民群众是中国共产党的力量源泉和胜利之本。人民群众为中国共产党领导人民取得革命、建设和改革开放的伟大成就提供了不竭的智慧和力量。(4分)

(2) ①斗争精神是中华民族精神的丰富和发展，弘扬斗争精神为中华民族面对一切风险和挑战提供精神支柱，在实现中华民族伟大复兴的征程中迸发出强大的精神动力。(3分) ②斗争精神是中华民族精神的生动体现，坚持和弘扬斗争精神鼓舞和激励着一代又一代中国共产党人攻坚克难、勇往直前；指引和支撑着中国人民不懈奋斗，凝聚起推进中华民族伟大复兴的磅礴力量。(4分) ③弘扬斗争精神有助于在错综复杂的国际形势中坚定走好中国特色社会主义道路；激励全党全国各族人民战胜一切可以预见和难以预见的风险挑战，共同致力于中华民族伟大复兴。(3分)

(3) ①专题宣讲，让学生感悟全会总结的伟大成就；②时事播报，让学生体会全会总结的历史经验。(每点2分，总分不得超过4分，其他答案言之有理也可得分)

**【解析】** (1) 本题以当前时政热点《中共中央关于党的百年奋斗重大成就和历史经验的决议》为背景。本题要求运用社会历史的主体相关知识分析党的根基在人民、血脉在人民、力量在人民的缘由。解答本题，对“根基在人民”，可以尝试从人民群众是社会历史的主体和历史的创造者，夯实执政之基展开；对“血脉在人民”可以尝试从群众观点和群众路线，是党的

---

根本立场和根本工作路线，是保持党同人民群众血肉联系的法宝等展开，对“力量在人民”可以从人民群众是中国共产党的力量源泉和胜利之本等展开。

(2) 本题要求运用中华民族精神的相关知识，说明发扬斗争精神在中华民族伟大复兴征程中的作用。由设问可知主要运用中华民族精神的地位和弘扬中华民族精神必然性等知识，结合材料展开分析即可。

(3) 本题属于开放性试题。此类试题答案不具有唯一性，可以“十九届六中全会宣讲”为主题，从专题专栏形式、时事播报等形式宣讲六中全会精神。言之有理，符合题意即可。

41. **【答案】** (1) 特点：以财政为核心；“国家本位”；抑制私人商业。(每点 2 分，共 6 分)  
原因：经济上，小农经济占据主导地位；政治上，巩固统治的需要；思想上，儒家重义轻利思想影响；民族上，统一多民族国家发展的需要。(每点 2 分，共 6 分，任答 3 点即可)

(2) 不同：未形成法定政策；国家赋役政策思想不完整；以奴隶主私人经济为本位；以“家政”为核心。(每点 2 分，答 3 点得 7 分)

影响：促进奴隶制经济发展；巩固统治；为后来经济思想提供借鉴。(每点 2 分，共 6 分)

**【解析】** (1) 第一小问“特点”，根据材料“中国经济政策思想自先秦以来，其轴心一直是国家财政”，概括得出以财政为核心；根据材料“可以说古代中国社会的经济政策思想从一开始即表现为一种‘国家本位’的思想”，概括得出“国家本位”；根据所学知识可以得出，抑制私人商业。第二小问“原因”，根据所学知识，可从经济、政治、思想、民族等方面分析，言之有理即可。

(2) 第一小问“不同”，根据材料“他们并没有从国家本位的需要出发，形成法定的政策和统治思想”，概括得出未形成法定政策；根据材料“几乎找不到较为完整的国家财政赋役政策思想”，概括得出国家赋役政策思想不完整；根据材料“它考察、关注的更多是奴隶主私人经济而不是国家经济；它不是以‘富国’为核心，而是以‘家政’为核心”，概括得出以奴隶私人经济为本位；以“家政”为核心。第二小问“影响”，根据所学知识，可从当时和后来两个时空角度说明，言之有理即可。

42. **【答案】** 示例 论题：“红色邮票”是中国共产党领导人民革命斗争的见证。(2 分)

阐述：国民革命失败后，中国共产党探索创立“工农武装割据”理论，创建农村革命根据地。图 1 邮票中的五角星和镰刀锤头体现了无产阶级的政权性质，1931 年成立中华苏维埃共和国临时中央政府，是中国共产党人创建人民革命政权的宝贵探索与尝试。图 2 反映的是为了持久抗战，巩固抗日民主根据地，中共中央在陕甘宁边区开展大生产运动，“自己动手，丰衣足食”，使抗日根据地军民度过了艰难时期，为战胜日本帝国主义奠定了物质基础。图 3

---

反映了为了推翻国民党的反动统治，解放全中国，人民解放军在以毛泽东为代表的党中央的正确领导下，取得淮海战役的胜利，解放长江中下游以北广大地区，为革命在全国的胜利奠定了基础。(8分)

总之，红色邮票反映了不同时期中国共产党领导中国人民革命斗争实践的历程，具有重要的艺术价值和研究价值。(2分)

**【解析】**从图片中不同时期邮票的内容可得出论题为：“红色邮票”是中国共产党领导人民革命斗争的见证。论述时，主要结合三张邮票所涉及的具体的内容进行概括，可得出图1邮票中的五角星和镰刀锤头体现了无产阶级的政权性质，1931年成立中华苏维埃共和国临时中央政府，是中国共产党人创建人民革命政权的宝贵探索与尝试。图2反映的是为了持久抗战，巩固抗日民主根据地，中共中央在陕甘宁边区开展大生产运动，“自己动手，丰衣足食”，使抗日根据地军民度过了艰难时期，为战胜日本帝国主义奠定了物质基础。图3反映了为了推翻国民党的反动统治，解放全中国，人民解放军在以毛泽东为代表的党中央的正确领导下，取得淮海战役的胜利，解放长江中下游以北广大地区，为革命在全国的胜利奠定了基础。红色邮票反映了不同时期中国共产党领导中国人民革命斗争实践的历程，具有重要的艺术价值和研究价值。言之有理即可。

43. **【答案】**原因：永泰古城旅游资源的独特性较低，吸引力不足；离客源市场较远；景区地域组合状况和集群状况较差；缺乏统一的宣传，营销力度不足；缺乏合理统筹的旅游规划。  
(每点2分，共6分，任答3点即可)

措施：对永泰古城旅游资源进行深度开发，加强基础设施建设；在知名景点加大对旅游项目的宣传力度，推出优惠政策；因景制宜，景区内保持原始村寨和居住区的自然风光；开发生态旅游项目，拓展客源市场等。(每点2分，共4分，任答2点即可)

**【解析】**原因可从旅游资源的独特性、客源市场距离、景区地域组合状况和集群状况、旅游规划等方面分析作答；措施可从永泰古城旅游资源深度开发、基础设施建设、旅游项目的宣传力度、政策等方面分析作答。

44. **【答案】**表现：大量工业废水严重污染水资源；污染和破坏土地资源；破坏城乡人居环境；带有令人厌恶的外观与气味，造成对生态环境破坏；引发有机需氧物质污染；化学毒物污染；无机固体悬浮物污染；植物营养物质污染等。(每点2分，共6分，任答3点即可)

措施：通过技术手段对污水进行物理、化学方面的处理；提升排污管理力度，提前做好应急处置预案；加大对违规排污的处罚力度。(每点2分，共4分，任答2点即可)

---

**【解析】**通过材料的提示，对当地环境的影响主要从土地资源、生态环境等方面分析回答；工业污水对环境造成的污染和破坏，针对具体问题，从技术手段、管理手段两方面分析防治措施。

45. **【答案】**(1) 特点：体现了民本思想；官员各司其职，分工明确；行政运作体系程序规范；官吏奖惩制度明晰；官吏的任用评价注重德才及实际政绩。(每点2分，共6分，任答3点即可)

(2) 意义：推动政令落实，加强了中央集权；为齐国称霸奠定基础；因贤授官、以功授爵的人事制度，突破了世卿世禄制，扩大了统治基础；部分措施为后世提供了借鉴。(每点3分，共9分，任答3点即可)

**【解析】**(1) 根据材料“霸王之所始也，以人为本”“特别是要有取信于民的真实政绩，而不是虚假的、表面的政绩”得出体现了民本思想；根据材料“实行五官制……分别为：大行，负责外交事务；大司田，掌管经济；大司马，主管军事；大司理，主管司法；大谏，主管监督”得出官员各司其职，分工明确；根据材料“在正月宣布法令政策，明确规定各级官吏一年中的任务……罪在不赦，多传达、少传达都要受到重罚，腊月底是汇报总结工作”得出行政运作体系程序规范、官吏奖惩制度明晰；根据材料“即首先由基层官吏组织考察推荐，长官考评，最后由桓公策问(答辩)任用，选贤的标准是德才兼备”得出官吏的任用评价注重德才及实际政绩。

(2) 根据材料“各级官吏回去以后要逐级传达……多传达、少传达都要受到重罚”并结合所学知识，得出推动政令落实，加强了中央集权、为齐国称霸奠定基础；根据材料“即首先由基层官吏组织考察推荐，长官考评，最后由桓公策问(答辩)任用，选贤的标准是德才兼备”并结合所学知识，得出因贤授官、以功授爵的人事制度，突破了世卿世禄制，扩大了统治基础；综合材料并结合所学知识可知，管仲人事改革部分措施被后世所借鉴。

46. **【答案】**(1) 原因：美军军事实力强于日军；美军作战计划保密并翔实；日军错误解读截获情报，对战争局势估计有误；双方战役指挥者军事能力差异。(每点3分，共9分，任答3点即可)

(2) 意义：摧毁日军实力有利于尽快结束太平洋战役；有效牵制日军，支援中国抗日战争。(每点3分，共6分)

**【解析】**(1) 原因，根据材料“美参谋长联席会议命令麦克阿瑟和尼米兹组成联合部队，派出航母18艘，战列舰12艘，重巡洋舰11艘以及飞机近2000架等”可知，美军军事实力强于日军；根据材料“美军对此次行动实施了严格的保密，作战计划翔实周密。而日军多次将

---

截获的告急文件错误解读，在战争中节节失利”可知，美军作战计划保密并翔实、日军错误解读截获情报，对战争局势估计有误；根据所学知识可知，双方战役指挥者军事能力差异。

(2) 意义，根据材料“此役摧毁了日本海军的绝大部分实力，不可一世的日本帝国海军就此一蹶不振”可知，摧毁日军实力有利于尽快结束太平洋战役；根据所学知识可知，有效牵制日军，支援中国抗日战争。

47. **【答案】** (1) 善举：撰写捐启；绘制、印刷和分发塔捐文册；请托亲朋好友积极捐输并代为募捐；发动民间力量进行赈灾，给予优惠条件。(每点 2 分，共 8 分)

(2) 特点：坚持亲力亲为；广纳善缘；官办和民办相结合；宏观管理和微观管理结合；具有近代化色彩。(每点 2 分，答 4 点得 7 分)

**【解析】** (1) 根据材料“为山东灾区撰写捐启”“亲绘捐册”“在友朋间分发”“民间办赈”等概括即可。

(2) 根据材料信息“亲绘”“官方和民间机构都对民捐民办的慈善事业给予了大力支持”“宏观”等并结合所学知识，从亲力亲为、广纳善缘、建立宏观和微观制度、官民结合等方面阐述。

